

Nombre:

Curso:

1 Esta tabla muestra el tipo de carne que han comido hoy los niños y niñas de la clase. Contesta:

carne	recuento
pollo	6
cerdo	11
vaca	4
cordero	3
caballo	1

a) ¿Cuántos alumnos hay en la clase?

b) ¿Cuál es la carne que han comido menos?

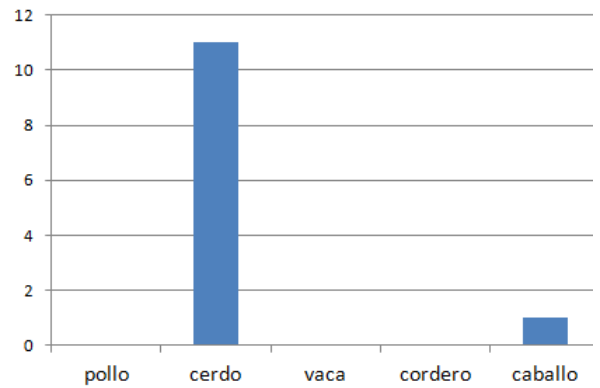
2 Con los datos de la tabla anterior han hecho este gráfico. Contesta:

a) ¿Qué clase de gráfico es?






.....

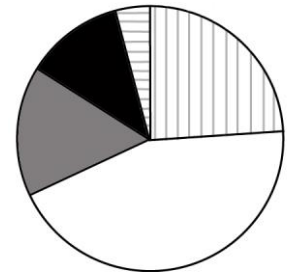
b) Añade las tres columnas que faltan:

.....



3 El siguiente gráfico de sectores se ha hecho con los datos de la tabla. Escribe qué tipo de carne corresponde a cada color:

- 
- 
- 
- 
- 



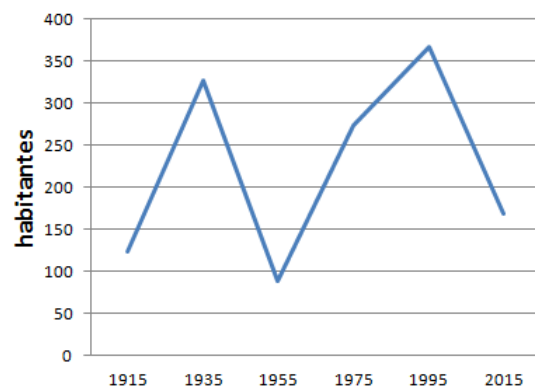
4 Este gráfico muestra los habitantes de un pueblo entre los años 1.920 y 2.015.

a) ¿Cuántos habitantes había en 1975?

.....

b) ¿Cuándo ha tenido menos habitantes?

.....



5 Alberto dice que si lanza cuatro veces una moneda, saldrá dos veces cara y dos veces cruz. ¿Qué opinas?

.....

.....